



شجرة النخيل

سايمون ايبو

روب أوين

العربية: Hala Ghamrawi



الرياضيات العائلية المبكرة

Early
Family
Math



Interactive Story

العربية

القرأاء الكبار

قبل الحديث تحدث مع طفلك قبل أن يتمكن من التحدث أو حتى فهم الكلمات. أشر إلى الأشياء التي تراها وقم بتسميتها ووصفها، مثل الأشكال والألوان والمقارنات والكميات. عندما يبدأ طفلك في فهم الكلمات، اسأل عن شيء ما واطلب من طفلك أن يشير إليه. على سبيل المثال، ”أين الكرة؟“ إذا لم يتمكن طفلك من العثور على الشيء، فأشر إليه.

الحديث المبكر عندما يبدأ طفلك بفهم الكلمات وقولها، اطرح عليه أسئلة بسيطة. يمكنك مساعدته في الإجابات حسب الحاجة. إذا أشرت وقلت ”هل هذا أحمر؟“ ولم يعلم، قدم له الإجابة. إذا قلت ”عد المكعبات.“ وطفلك لا يعرف كيف، قم بالإشارة إلى المكعبات وعدّها معه ”واحد، اثنان، ثلاثة“.

كلمات ومواضيع الرياضيات تحتوي هذه القصة على العد حتى 12 والمقارنة والأشكال. كلمات التدريب: الأرقام إلى 12، كم عدد، التقدير، العد بمقدار 2، أكثر، أقل، الفرق، الشكل الدائري، شكل الصندوق، الحلقة، والنمط.

اقرأ، تحدث واستمتع! الأسئلة والتعليقات المقدمة هي مجرد البداية.

من أجل القراءة الأولى، اقرأ الأسئلة والتعليقات بالأحمر.

من أجل القراءة الثانية، اقرأ الأسئلة والتعليقات بالأزرق.

من أجل القراءة الثالثة، اقرأ الأسئلة والتعليقات بالأخضر.

بعد ذلك، اتبع اهتمامات طفلك ودع مناقشاتك تسير في اتجاهات ممتعة.

دعني أحدثك عن شجرة
النخيل.

١. هل لديك أشجار نخيل حيث
تعيش؟ للنخيل أنواع كثيرة،
ولعل شكل التي لديك يختلف
عن هذه.

٢. قلادته بها نمط متكرر من
الخرز الأصفر والأحمر. عد
الخرزات باستخدام النمط للعد
بمقدار 2.

٣. أنه يمتلك حلقتين في أذنيه.
كم عدد قطع الملابس على شكل
حلقات لديه؟ تأكد من النظر في
كل مكان.




تعيش هذه الشجرة حيث
يجف كل شيء آخر.

١. الماء تحتاجه معظم
الكائنات الحية. تتميز أشجار
النخيل بالذكاء في استخدام
القليل جدًا من الماء في مكان
جاف.

٢. تنقسم الأغصان إلى
غصنين إضافيين عند صعودها.
عد الأغصان في الجزء العلوي
مما يمكننا رؤيته قبل الأوراق.

٣. عد العظام والحجارة التي
على الأرض.



ظل شجرة النخيل بارد دائمًا.

١. هل في ظل النخلة شيء
مميز يجعلها تبرّد؟

٢. هل ظل الأشجار كلها
بارد؟

٣. هذا الشخص لا يكاد يحتوي
داخل هذا الظل. لماذا اختار
مثل هذه الشجرة الصغيرة؟
ربما لا توجد أي أشجار أخرى
قريبة؟




ناكل من ثمر النخل.

١. اذكر وعدّ أنواع الفاكهة
التي تحب أن تأكلها.

٢. شعرهم مجدول. أي واحد
لديه المزيد من الصفوف التي
يمكنك رؤيتها؟ ما الفرق بين
الرقمين - أيهما أكثر؟

٣. هل من المنطقي أن يكون
لدى الشخص الأكبر عدد أكبر
من صفوف الشعر؟




نستخدم سعف النخيل في
تغطية بيوتنا بالقش.

١. هذا المنزل له شكل
دائري. من السهل بناء المنازل
المستديرة كما أنها توفر مساحة
أكبر.

٢. هل لديك أي مباني مستديرة
حيث تعيش؟

٣. عادة ما تكون الكرات
والمصابيح مستديرة الشكل. ما
هي بعض الأشياء المستديرة من
حولك؟



لدينا مكانس وحصير من
سعف النخيل.

١. من الأشياء من حولك أي
منها يبدو وكأنه مصنوع مباشرة
من الأشجار أو غيرها من
المواد الطبيعية؟

٢. عدّوا معًا الأشياء المختلفة
في هذه الصورة المصنوعة من
النخيل.

٣. احسب عدد الحلقات التي
ترتديها. هل الرقم أكثر أم أقل
مما كان لدى الرجل في صفحة
سابقة؟



نستخدم بذور شجرة
النخيل كوقود.

١. يعد حرق بذور النخيل
أحد المصادر العديدة المحتملة
للحرارة. كيف تحصل على
الحرارة في المكان الذي تعيش
فيه؟

٢. ما هي الاستخدامات
الأخرى للحرارة غير الطبخ؟

٣. التقدير هو تخمين مدروس
يعتمد على معلومات جزئية. قم
بتقدير عدد البذور الموجودة في
تلك السلة. هل هو رقم أكبر مما
تعلم؟



هل ترى ما أهمية شجرة
النخيل؟

١. اذكروا وعدّوا عدد الطرق
التي تنفعهم بها النخلة.

٢. ما هي بعض الأشجار
حيث تعيش التي لها استخدامات
مهمة؟

٣. سواء كانت مفيدة أم لا،
ما هي بعض الأشجار المفضلة
لديك القريبة منك؟



Palm tree

Author -- SimonIpoo

Translation -- SimonIpoo

Illustration -- RobOwen

Language -- English

Level -- Firstwords

© African Storybook Initiative 2015

Creative Commons: Attribution 4.0

Source www.africanstorybook.org